

# ТЕОРИЯ И ПРИМЕНЕНИЕ ЦИФРОВОЙ ОБРАБОТКИ СИГНАЛОВ

## ДИСКРЕТИЗАЦИЯ НЕПРЕРЫВНЫХ СИГНАЛОВ. КРИТЕРИЙ НАЙКВИСТА

д.т.н., доцент Фашкевич Максим Юсифович

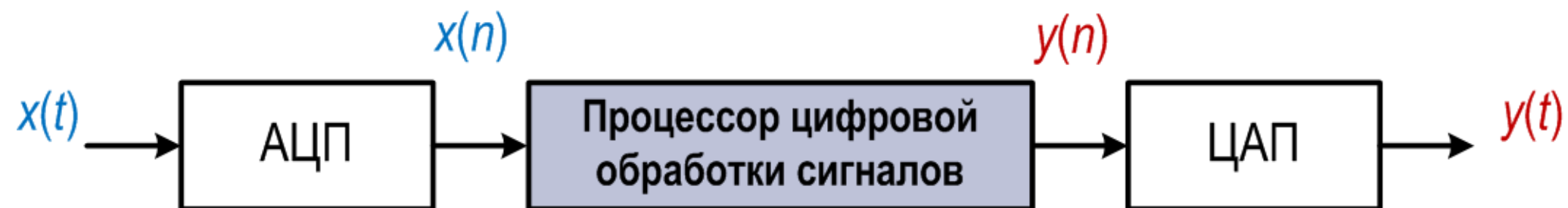


Белорусский государственный университет  
информатики и радиоэлектроники  
Кафедра электронных вычислительных средств

# Типичная система ЦОС

Чаще всего цифровые системы обрабатывают сигналы, поступающие из реального мира.

$$x(n) = x(t)|_{t=nT}$$



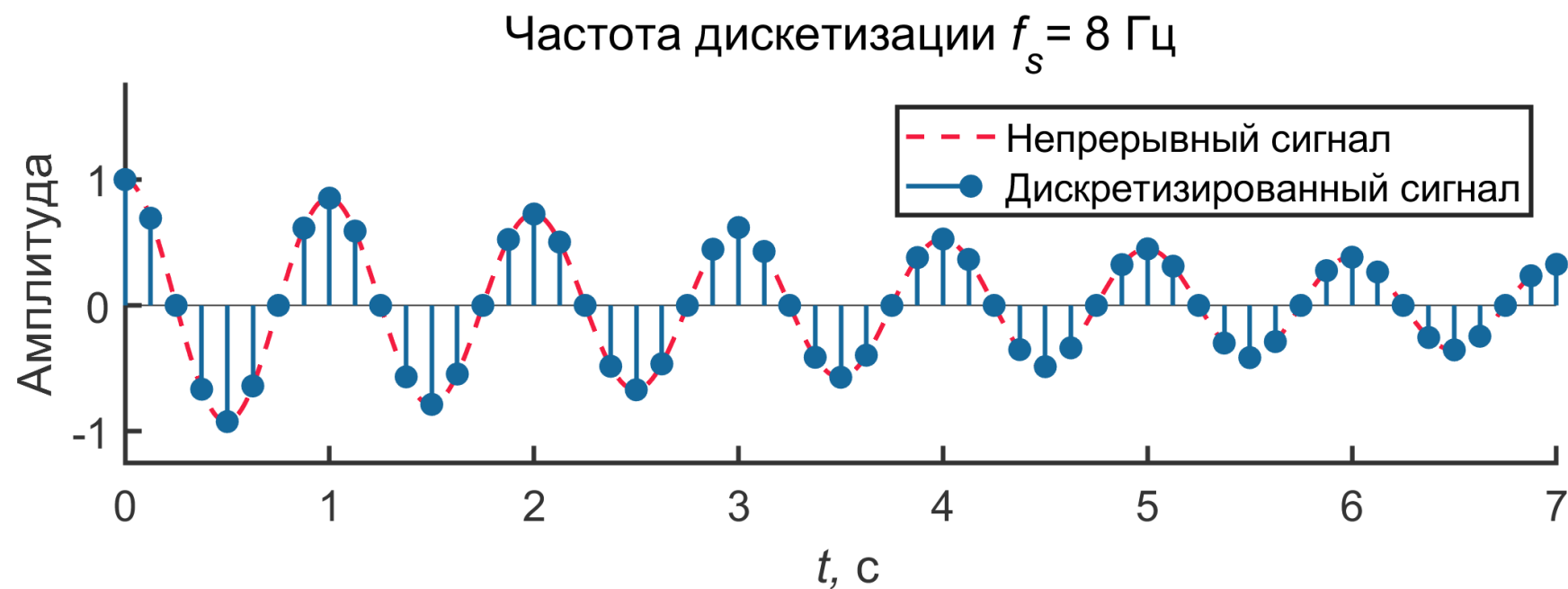
АЦП – аналого-цифровой преобразователь;

ЦАП – цифро-аналоговый преобразователь.

- ✓ АЦП непрерывно дискретизирует сигнал с частотой равной  $f_s$ .
- ✓ Для работы в реальном масштабе времени процессор должен закончить все вычисления в пределах интервала дискретизации  $T = 1/f_s$  и передать выходной отсчет на ЦАП.

# Пример дискретизации сигнала

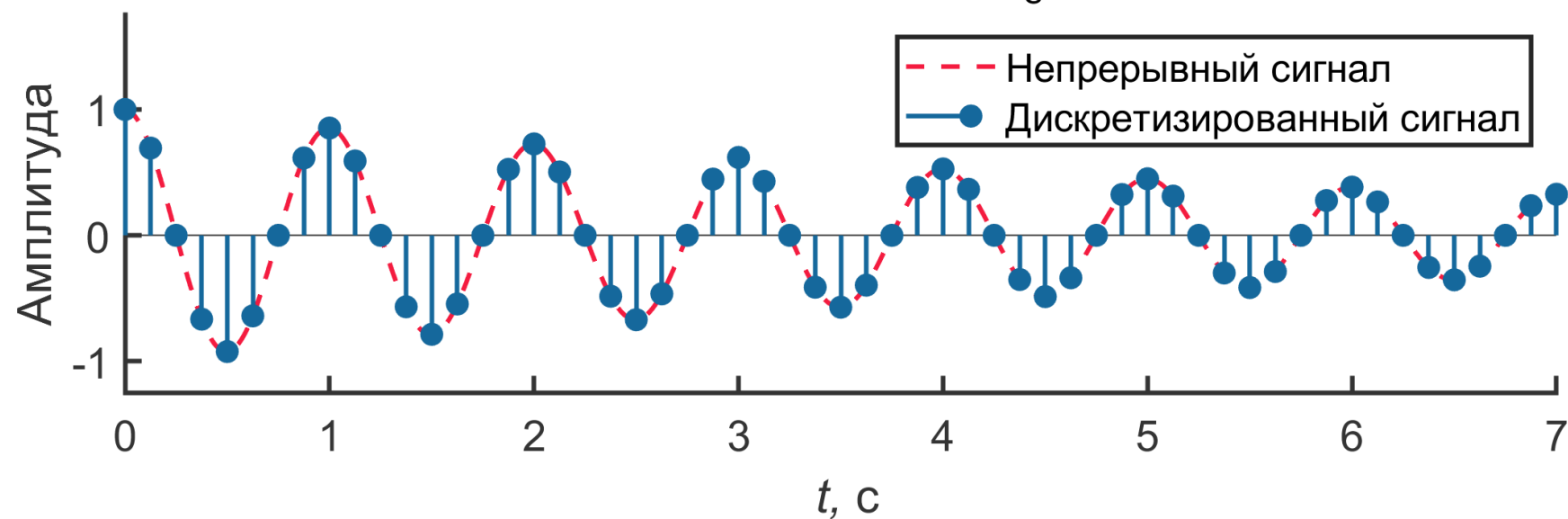
Чем больше число отсчетов в секунду ( $f_s$ ), тем более точным будет представление сигнала в цифровом виде.



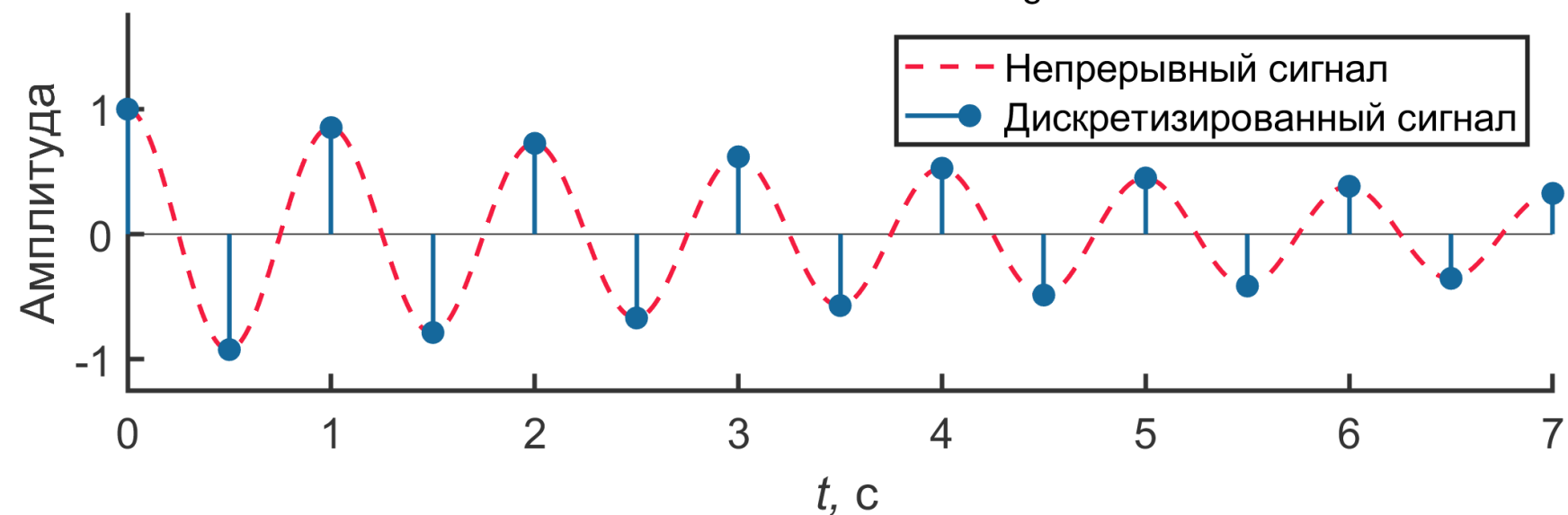
# Пример дискретизации сигнала

Чем больше число отсчетов в секунду ( $f_s$ ), тем более точным будет представление сигнала в цифровом виде.

Частота дискретизации  $f_s = 8$  Гц

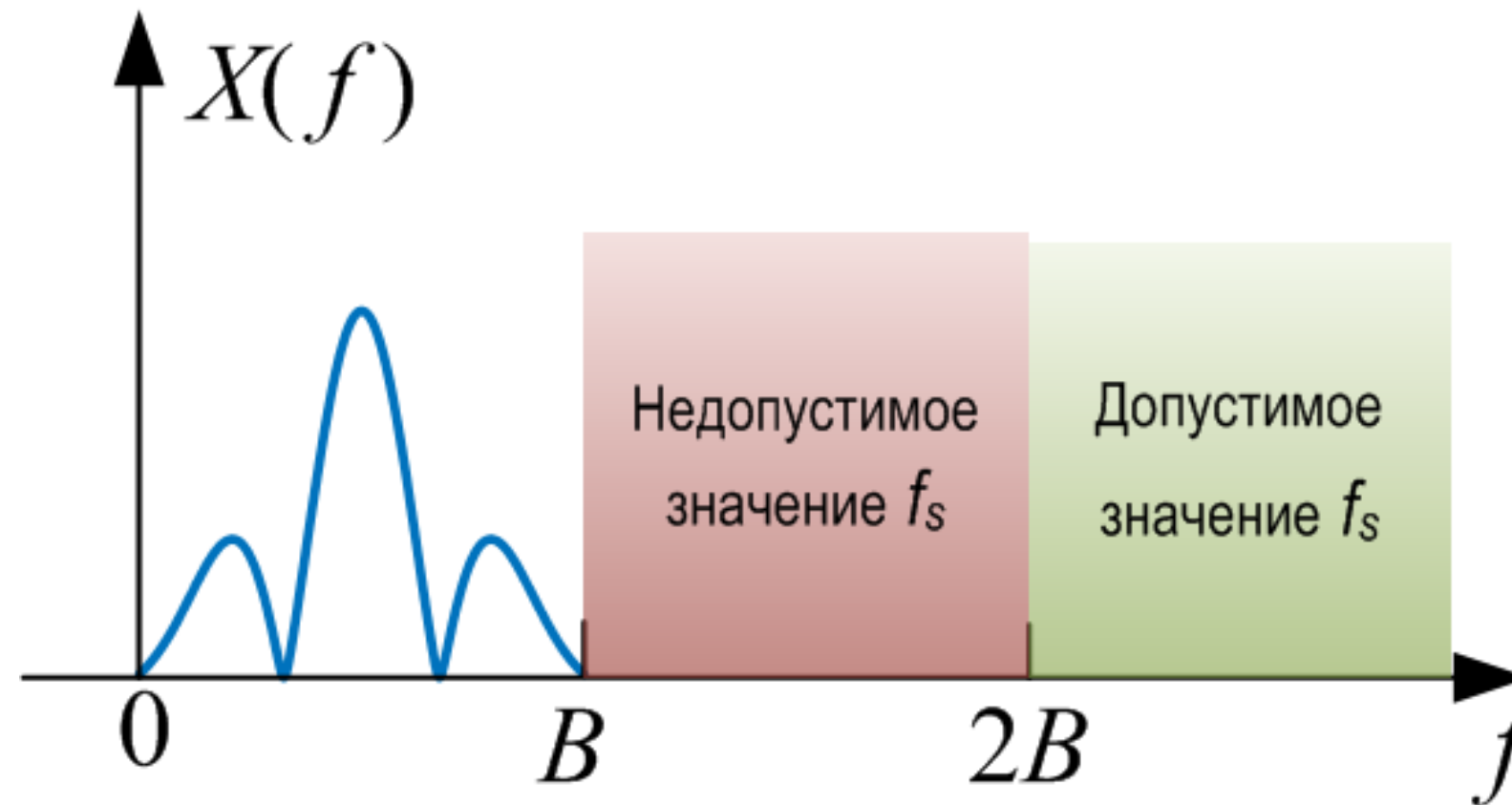


Частота дискретизации  $f_s = 2$  Гц



# Критерий Найквиста

Частота дискретизации  $f_s$  сигнала с шириной полосы  $B$  должна удовлетворять условию  $f_s > 2B$ , в противном случае информация о сигнале теряется.



Когда  $f_s < 2B$  возникает эффект **наложения спектров** (или, как его ещё называют, явление **подмены частот**).

# Эффект подмены частот

Рассмотрим сигнал  $\cos(2\pi f_1 t)$  с частотой  $f_1 = 0,5$  Гц. Выполним дискретизацию с частотой  $f_s = 0,6$  Гц (что не удовлетворяет критерию Найквиста).



# Эффект подмены частот

Рассмотрим сигнал  $\cos(2\pi f_1 t)$  с частотой  $f_1 = 0,5$  Гц. Выполним дискретизацию с частотой  $f_s = 0,6$  Гц (что не удовлетворяет критерию Найквиста).



Из-за «неправильной» дискретизации получился сигнал с частотой ниже, чем у исходного сигнала, т.е. произошел **эффект подмены частот**.

Полученный сигнал имеет частоту, которая равна разности  $f_s - f_1$  (в нашем случае  $f_s - f_1 = 0,6 - 0,5 = 0,1$  Гц, т.е. период равен 10 с.)

# Почему происходит подмена частот?

Рассмотрим пример синусоиды:

$$x(t) = \sin(2\pi f_0 t), \quad f_0 = \frac{p + q}{2T}, \quad p \in \mathbb{Z}, \quad q \in \mathbb{Q}, \quad |q| < 1 \quad (1)$$

Выполнив процесс дискретизации  $t \rightarrow nT$  и мы получим

$$x(n) = \dots$$



# Почему происходит подмена частот?

Рассмотрим пример синусоиды:

$$x(t) = \sin(2\pi f_0 t), \quad f_0 = \frac{p + q}{2T}, \quad p \in \mathbb{Z}, \quad q \in \mathbb{Q}, \quad |q| < 1$$

Выполнив процесс дискретизации  $t \rightarrow nT$  и мы получим

$$\begin{aligned} x(n) &= \sin\left(2\pi \frac{p + q}{2T} nT\right) = \sin(\pi(p + q)n) = \\ &= \underbrace{\sin(\pi p n)}_{=0} \cos(\pi q n) + \cos(\pi p n) \sin(\pi q n) = \\ &= \cos(\pi p n) \sin(\pi q n). \end{aligned}$$

Теперь в зависимости от четности  $p$  имеется две возможности:

1) Если  $p$  – четное, то  $\cos(\pi p n) = 1$  для всех  $n$ , поэтому

$$x(n) = \sin(\pi q n) = \sin\left(2\pi \left(\frac{q}{2T}\right) nT\right) \quad (2)$$

2) Если  $p$  – нечетное, то

$$x(n) = (-1)^n \sin(\pi q n) = \cos \pi n \sin(\pi q n) = -\sin(\pi n(1 - q)). \quad (3)$$

## Пример «неправильной» дискретизации

Какая будет частота дискретного сигнала, если исходный сигнал имеет вид

$$x(t) = \sin(2\pi f_0 t)$$

и  $T = 0,005$  с (т.е.  $f_s = \frac{1}{T} = \frac{1}{0,005} = 200$  Гц);  $f_0 = 1025$  Гц.

## Пример «неправильной» дискретизации

Какая будет частота дискретного сигнала, если исходный сигнал имеет вид

$$x(t) = \sin(2\pi f_0 t)$$

и  $T = 0,005$  с (т.е.  $f_s = \frac{1}{T} = \frac{1}{0,005} = 200$  Гц);  $f_0 = 1025$  Гц.

Решение

$$f_0 = \frac{p + q}{2T} \Rightarrow 1025 = \frac{p + q}{0,01} \Rightarrow$$

$$\Rightarrow p + q = 10,25$$

$$\Rightarrow p = 10, \quad q = 0,25.$$

Таким образом  $p$  – четное, следовательно, полученная частота

$$f'_0 = \frac{q}{2T} = \frac{0,25}{0,01} = 25 \text{ Гц.}$$

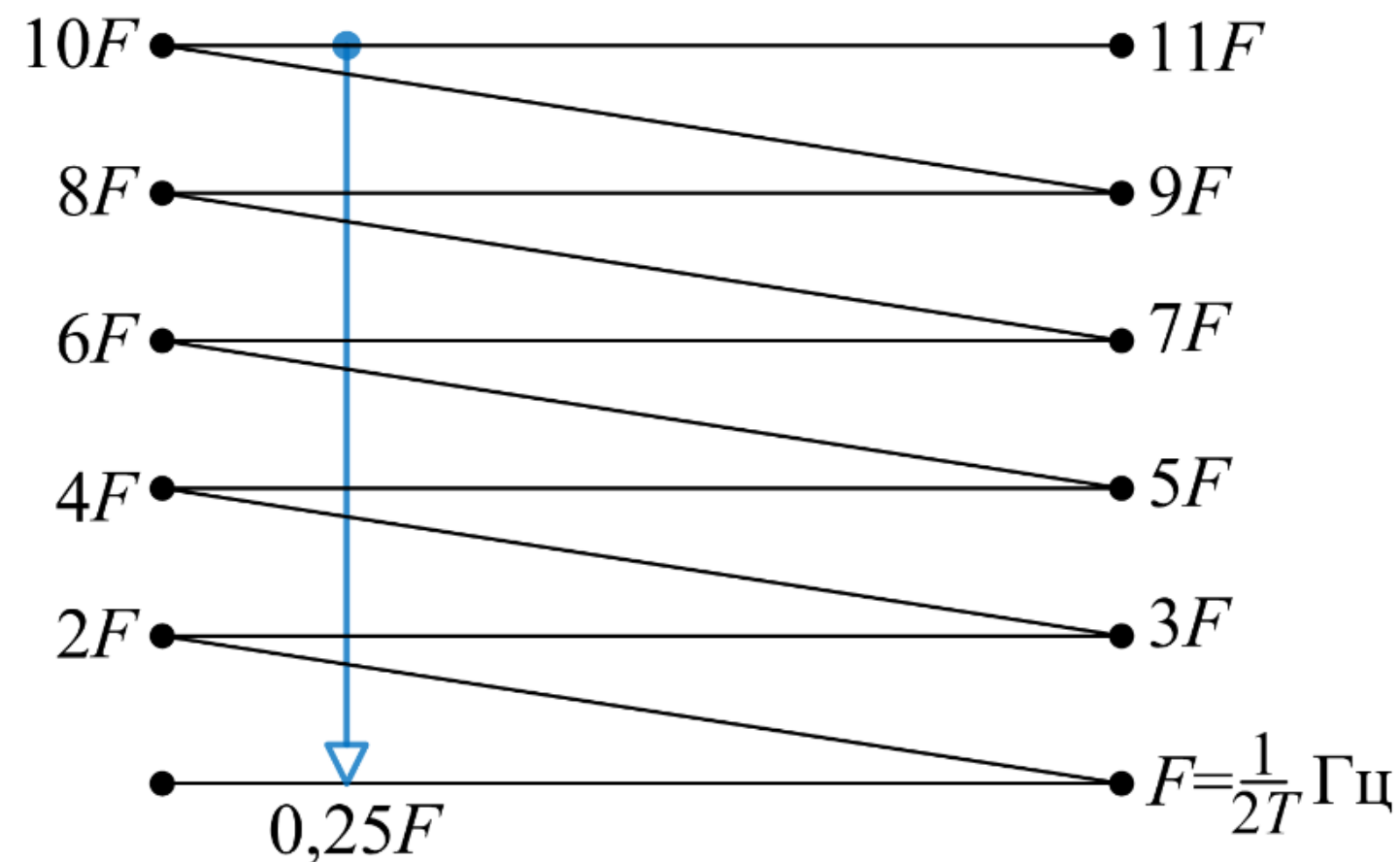
# Частота Найквиста

Частота  $(2T)^{-1}$  играет особую роль для цифровых сигналов, её обозначают через  $F$  (от англ. *folding*):

$$F = (2T)^{-1} = \frac{f_s}{2}.$$

# Диаграмма подмен Найквиста

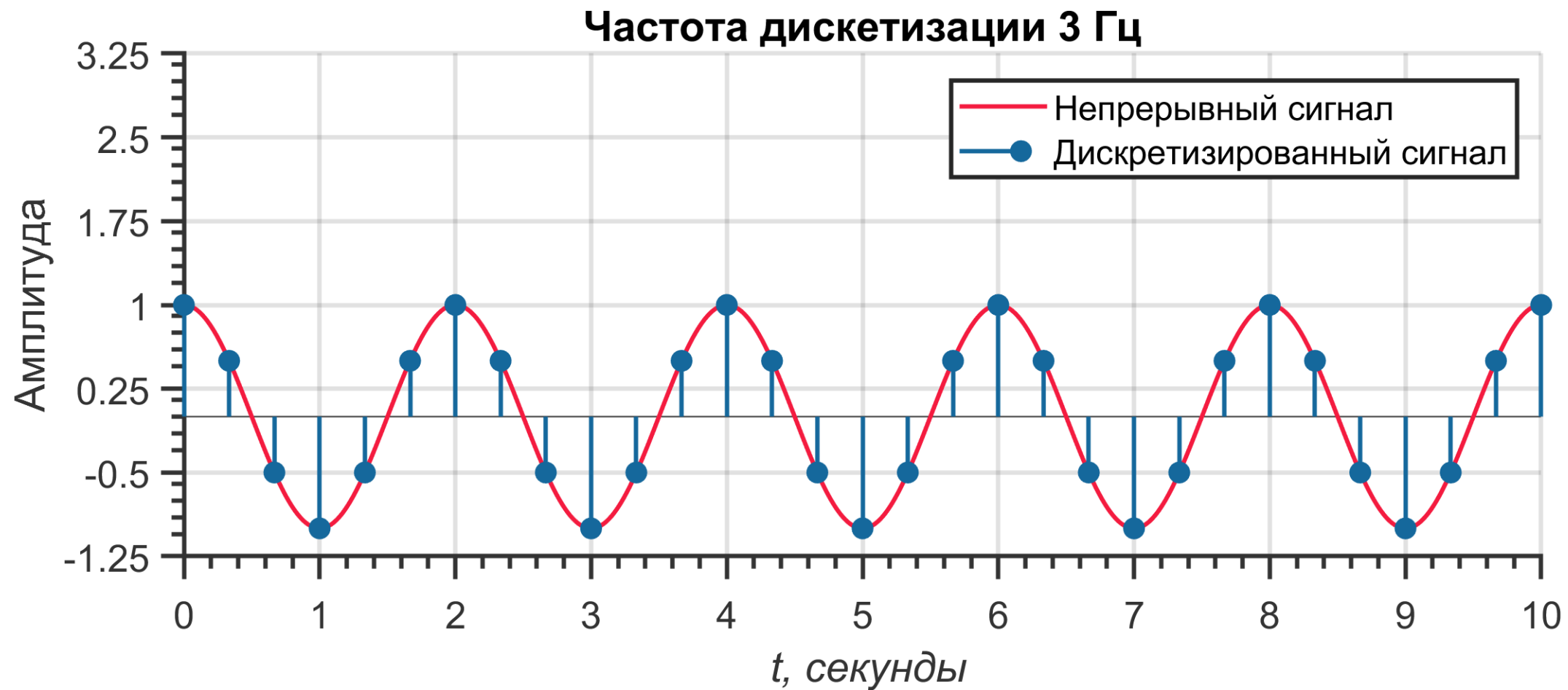
Диаграмму подмен Найквиста можно использовать для нахождения частот подмены для данной частоты сигнала и заданной частоты дискретизации.



Частота 1025 Гц отвечает величине  $10,25 F$  при скорости отсчетов 200 выборок в секунду ( $f_s = 200$  Гц,  $F = \frac{f_s}{2} = 100$  Гц). Если из этой точки опустить перпендикуляр, то получится  $0,25 F$ . То же значение получится, если взять  $1.75 F$ ,  $2.25 F$ ,  $3.75 F$ ,  $4.25 F$ ,  $5.75 F$ ,  $6.25 F$ ,  $7.75 F$ ,  $8.25 F$ ,  $9.75 F$  и т.д.

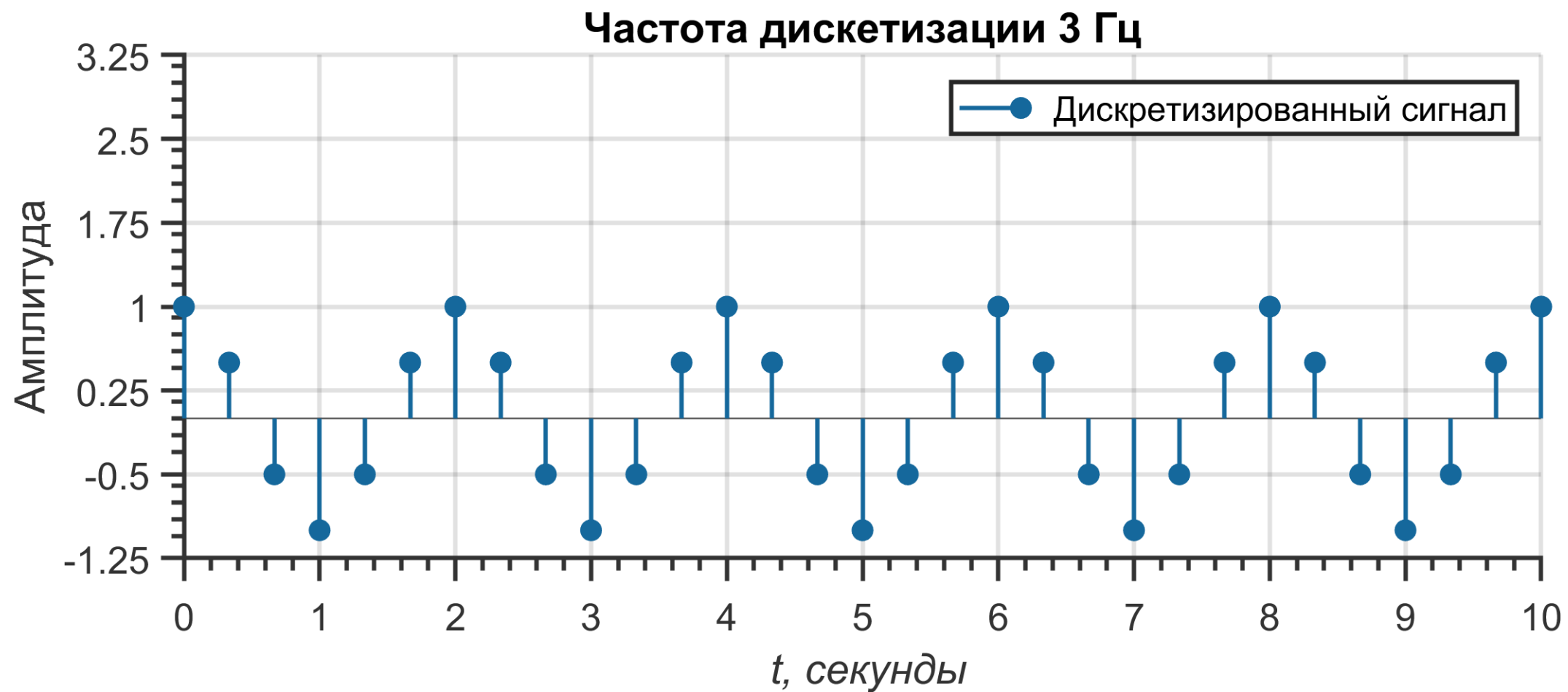
# Подмена частот

Синусоида с частотой 0,5 Гц.  $f_s = 3$  Гц.



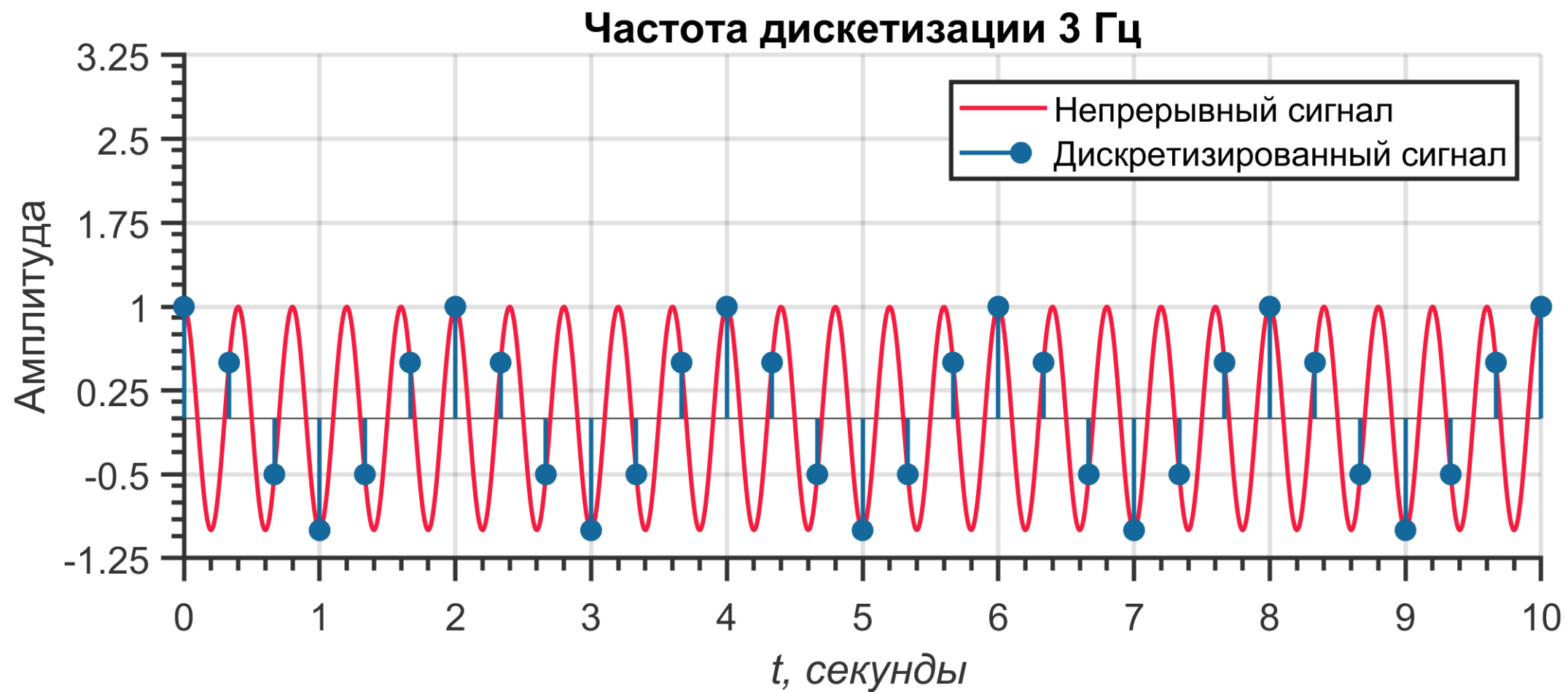
# Подмена частот

Сколько различных аналоговых сигналов могут соответствовать данному дискретному сигналу?



# Подмена частот

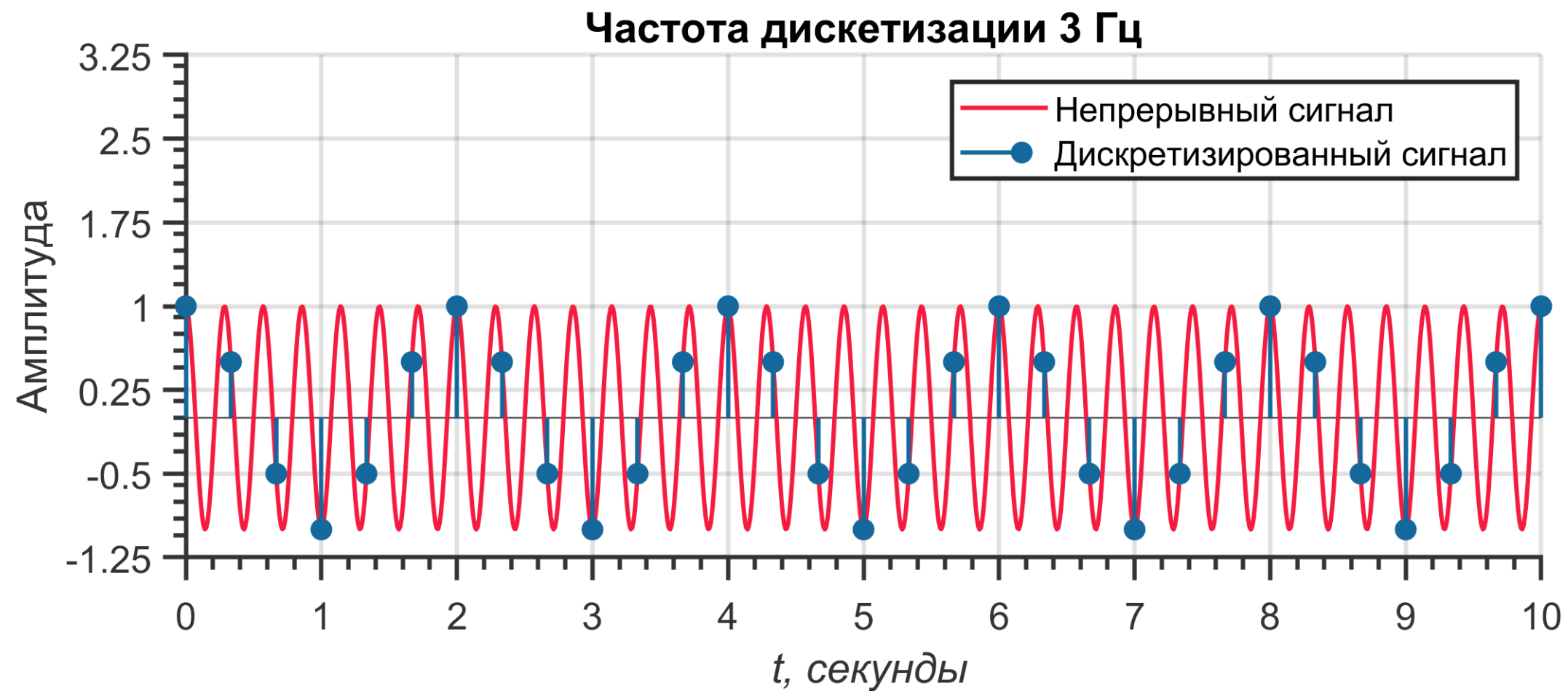
Синусоида с частотой 2,5 Гц.





# Подмена частот

Синусоида с частотой 3,5 Гц.



# Подмена частот

Синусоида с частотой 5,5 Гц.

